



Atividades de Férias

Data da entrega: 5 de agosto



Professor: Lidyanne Barros

Disciplina: Geografia

Aluno(a):

Turno:

Série: 5º Fund. I

Data: / /

Valor:

Nota:

ATIVIDADE DE FÉRIAS DE GEOGRAFIA

“O Brasil é um país rico culturalmente, e ele passou por algumas divisões para melhor divisão política e econômica.”

- Observe o mapa do Brasil e responda as questões abaixo:



01. Quantas e quais são as regiões que o Brasil está dividido?

02. Em qual estado você mora? E qual a região ele fica localizado?

03. Qual o estado brasileiro com maior extensão territorial e qual o com a menor?

04. Qual a região brasileira que possui o maior número de estados?

05. Em que região brasileira está situada a capital do governo brasileiro?



Área de Conhecimento: Artes

Série: ____° ano

Data: / /









Aluno(a):

Professor:

A música consiste na arte de combinar os sons de acordo com as variações da altura, proporcionados segundo a sua duração, ordenados sob a lei da estética, de modo a expressar sentimento. Dentre os gêneros musicais estudados, destacamos a música popular. Cite exemplos de musica popular.

Agora, observe o quadro ao lado, recorte e cole imagens de revistas e jornais ou faça desenhos no quadrado combinando com as palavras e crie uma musica usando sua criatividade. Copie a musica que foi criada por você.

BOAS FÉRIAS!

FAZ		CHEGOU O	
FAZ		E LOGO VAI	
É TEMPO DE USAR		,	
	E		PRA ME AQUECER



Professor: Fabrícia Monteiro

Disciplina: Ciências

Aluno(a):

Turno:

Série: 5º Fund. I

Data: / /

Valor:

Nota:

ATIVIDADE DE FÉRIAS - CIÊNCIAS

O ser humano precisa da energia dos alimentos para realizar todas as atividades diárias e ter um desenvolvimento saudável. O cansaço e a fome são sinais de que parte da nossa energia foi gasta e precisa ser repostada. A água é outro elemento indispensável ao nosso corpo, ela auxilia na eliminação de resíduos do corpo, mantêm a temperatura do corpo e também é a grande responsável por transportar por todo o corpo as substâncias de que necessitamos.

1. Como seu corpo reage quando fica sem comer?

2. Quais são as funções da água no nosso organismo?

3. Se uma pessoa bebe pouca água pode ficar desidratada. Como é possível reidratar uma pessoa? Pesquise e responda.

4. Escreva uma frase para Felipe explicando-lhe a importância de beber água e as desvantagens de ingerir refrigerante com frequência.

Eu não gosto de água.
Quando estou com sede,
prefiro tomar refrigerante.





Professor: Karliene Silva

Disciplina: Español

Aluno(a):

Turno:

Série: 5º ano

Data: / /

Valor:

Nota:

ACTIVIDAD DE VACACIONES DE ESPAÑOL

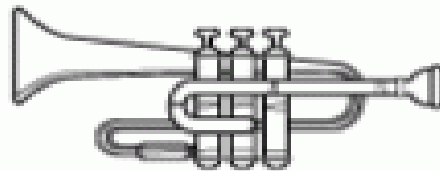
01. Pinta y escribe los nombres de estos instrumentos musicales:











02. Haz la relación:

(a) Bolivia

() brasileño

(b) Brasil

() chino

(c) España

() peruano

(d) China

() boliviano

(e) Perú

() español

03. Pon los numerales en secuencia y descubre el arte a que se refiere la frase.


(8) sentidos	(3) entramos	(1) cuando	(4) en	(2) esculpimos	(6) con	(5) contacto	(7) los
--------------	--------------	------------	--------	----------------	---------	--------------	---------

- a) Dança
- b) Pintura
- c) Escultura
- d) Música

04. Mira el dibujo, pinta e haz una frase para nuestro planeta Tierra.



05. Pinta los dibujos y haz frases:



En un campamento...

“Buenas vacaciones”
Tia Karliene.



Professor: Lidyanne Barros

Disciplina: História

Aluno(a):

Turno:

Série: 5º Fund. I

Data: / /

Valor:

Nota:

ATIVIDADE DE HISTÓRIA- FÉRIAS

“No início de nossa colonização, era comum, as famílias no Brasil serem formadas pela união de portugueses com mulheres de diferentes origens”.

• De acordo com o que vimos responda as questões abaixo:

01. Como se formaram as primeiras famílias de europeus com indígenas no Brasil?

02. Como era a vida das mulheres nessas primeiras famílias ?

03. Descreva abaixo quais as transformações ocorreram na vida dos indígenas no contato com os portugueses?

“A partir de 1530 , liderado por Martim Afonso de Souza , o primeiro grupo de escravos africanos chegou ao território brasileiro. Mas somente a partir de 1550 foi que o Comércio de escravos ganhou força”.

04. Explique como era a viagem feita nos navios negreiros para o Brasil?

05. E como era feito o mercado de escravos?

“Nunca ajuda uma criança em uma tarefa em que ela pode fazer sozinha.” (Maria Montessori)



Professor: Ariadne Rabelo

Disciplina: Inglês

Aluno(a):

Turno:

Série: 5º Fund. I

Data: / /



Valor:

Nota:

ATIVIDADE DE FÉRIAS - INGLÊS

01. Write the words.

skate - sing - laugh - play - cry - draw - eat - drink - talk - paint



02. Write two new words to complete each box.

MONTHS

January

February

March

ORDINAL

NUMBERS

First

Second

Third

03. Circle the correct option.



1 **This is – These are** my shirt.



2 **This is - These are** my socks

04. Write the sentences.



1 She's crying

2 _____

3 _____

4 _____

05. Translate the sentences.

a) I like to drink soda with cake.

b) We like to eat hot dog with orange juice.



Professor: Jane / Hildomar

Disciplina: LIBRAS

Aluno(a):

Turno:

Série: 5º ano

Data: / /

Valor:

Nota:

ATIVIDADE DE FÉRIAS DE LIBRAS


1) Passe para o português as seguintes palavras em libras:

a. _____

b. _____

c. _____

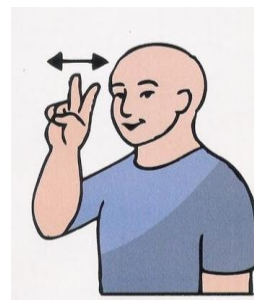
02. Com a cor vermelha circule e forme uma palavra dissílaba, e, com a cor azul circule e forme uma palavra trissílaba, usando o alfabeto manual abaixo:



a.

b.

03. Dê o nome dos seguintes dias da semana:



04. Classifique o seguinte sinal de acordo com os seus parâmetros:



a) **Sexta - feira**

- Configuração de mãos:
- Ponto de articulação:
- Movimento:
- Orientação e Direcionalidade:
- Expressão corporal e facial:

05. Marque com um **X** a alternativa correta da seguinte operação:



+



a. ()

b. ()

c. ()

d. ()



Professor: Andréa e Roberta

Disciplina: Matemática

Aluno(a):

Turno:

Série: 5º ano

Data: / /

Valor:

Nota:

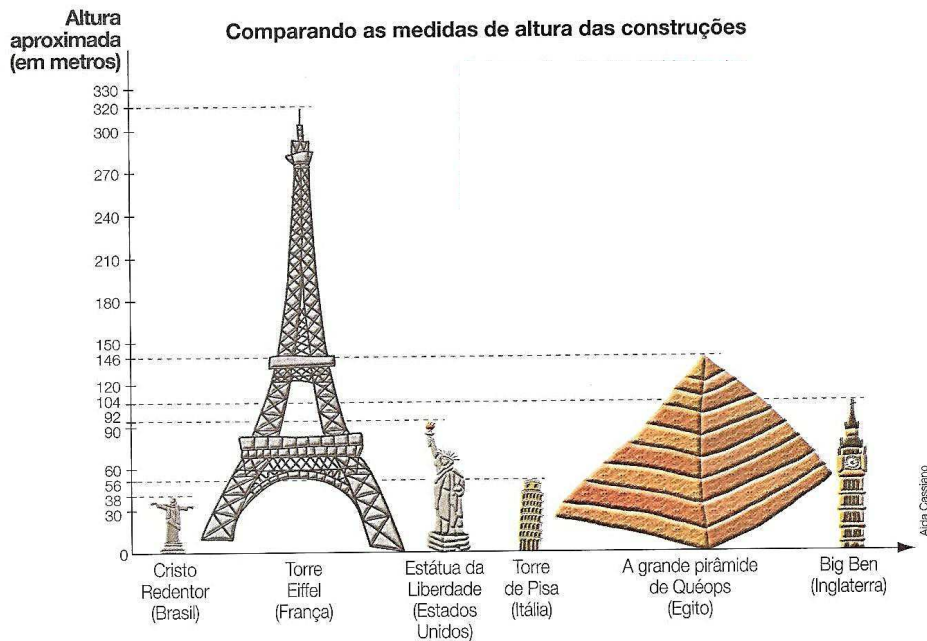
ATIVIDADE DE FÉRIAS - MATEMÁTICA

01. Tio Walconilson foi as compras e ele precisa saber qual o troco para uma nota de 100 reais se o valor da compra for de:

- a) R\$ 72,00 _____
- b) R\$ 59,00 _____
- c) R\$ 42,50 _____
- d) R\$ 69,70 _____
- e) R\$ 28,10 _____



02. Observe no gráfico a altura de algumas construções famosas:

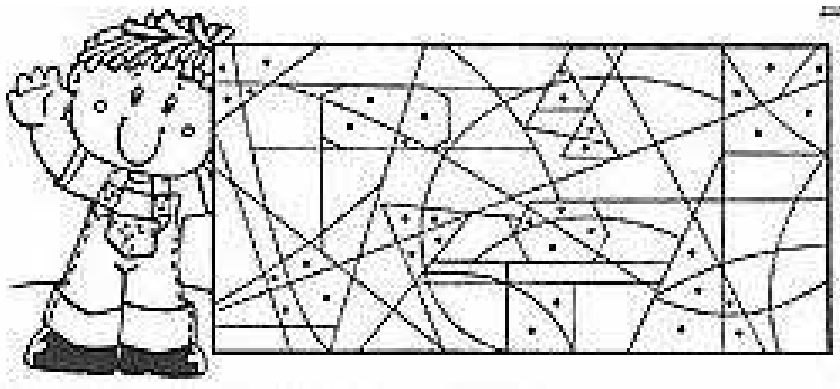


Fontes de pesquisa: Folha de S.Paulo. São Paulo, 25 jul. 1991. DUARTE, Marcelo. O guia dos curiosos. 2. ed. revista e atualizada. São Paulo: Companhia das Letras, 2001.


Com os dados do gráfico complete a tabela com as alturas aproximadas de cada uma das construções famosas:

	Cristo Redentor (Brasil)	Torre Eiffel (França)	Estátua da Liberdade (Estados Unidos)	Torre de Pisa (Itália)	A grande pirâmide de Quéops (Egito)	Big Ben (Inglaterra)
Altura aproximada						

03. Pinte os espaços que têm os pontinhos e escreva o nome dos Polígonos que aparecem nas imagens.



04. Observe o número que está escrito nos vagões do trem e responda as perguntas:



- a) Quantas ordens ele têm? _____
- b) Escreva esse número por extenso? _____
- c) Qual algarismo representa a primeira ordem? _____
- d) Qual algarismo representa a última ordem? _____
- e) O algarismo 7 representa que ordem? _____

05. O professor de Educação Física possui 124 bolas de futebol, ele precisa dividi-las entre 2 alunos. Quantas bolas cada aluno receberá?
Cálculo



Resposta _____



Professor: Kátia Serpa

Disciplina: Português

Aluno(a):

Turno:

Série: 5º Fund. I

Data: / /

Valor:

Nota:

ATIVIDADE DE FÉRIAS - PORTUGUÊS

1º) Mude o gênero dos substantivo abaixo:

- a) cabra _____ g) o sabiá macho _____
b) compadre _____ h) mãe _____
c) o artista _____ i) leão _____
d) amártir _____ j) professor _____
e) papa _____ k) leitão _____
f) camponesa _____ l) maestrina _____
m) rainha _____

2º) Pesquise na primeira questão os substantivos pedidos e escreva-os.

- a) comum – de – dois: _____
b) sobrecomum: _____
c) epicenos: _____

3º) Escreva o adjetivo pátrio correspondente ao lugar de origem.

- a) sua cidade _____ d) seu país _____
b) seu estado _____ e) seu continente _____
c) sua região _____ f) seu planeta _____

4º) Leia o texto que nos fala das plantas observando que os seus substantivos estão no grau normal:

Um mundo sem plantas?

Você já imaginou um mundo sem plantas?

Você andando de um lado para o outro ao longo das ruas e só vendo pedras, prédios, carros, lojas e fábricas? Ainda que fossem bonitas, teria a impressão de estar faltando algo.

Mas, será que as plantas são apenas enfeites?

Além das frutas, legumes e verduras que comemos, as geleias, os pães, o chocolate, o açúcar e muitas outras coisas vêm das plantas.

(De mãos dadas com a natureza-plantas – Edith Berchtold)

- Agora identifique os substantivos do texto, escolha quatro deles e, abaixo dê a variação do grau:

a) Substantivo _____

Aumentativo sintético _____

b) Substantivo _____

Aumentativo analítico _____

c) Substantivo _____

Diminutivo sintético _____

d) Substantivo _____

Diminutivo analítico _____

5º) Usando um dicionário, descubra os significados das palavras de pronúncias semelhantes:

a) Espiar _____

Expiar _____

b) Brocha _____

Broxa _____

c) Espirar _____

Expirar _____

d) Tacha _____

Taxa _____